



שם התלמיד/ה: \_\_\_\_\_

## מבחן מסכם במתמטיקה – לבוגרי כיתה א'

### שאלה 1

- א. כתבו בספרות את המספר ארבעים ושתיים. \_\_\_\_\_
- ב. כתבו במלים את המספר 95. \_\_\_\_\_

### שאלה 2

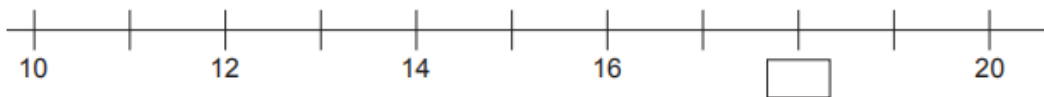
השלימו את הסדרות.

34 , 36 , 38 , \_\_\_\_\_ , \_\_\_\_\_ , \_\_\_\_\_

45 , 55 , 65 , \_\_\_\_\_ , \_\_\_\_\_ , \_\_\_\_\_

### שאלה 3

רשמו את המספר החסר על ישר המספרים.



### שאלה 4

הקיפו את המספרים הקטנים מ-60.

5                      80                      65                      14                      42                      87



### שאלה 5

כתבו שני מספרים הגדולים מ-8 וקטנים מ-14.

\_\_\_\_\_

### שאלה 6

בכל שורה הקיפו את התרגיל בעל התוצאה היותר גדולה.

$$10 - 4 \qquad 4 + 10$$

$$6 + 3 \qquad 2 + 8$$

$$19 - 5 \qquad 18 - 5$$

### שאלה 7

מיכל קנתה חבילה ובה 9 טושים. סבתא שלה קנתה לה במתנה עוד 8 טושים  
זוהרים. כמה טושים יש למיכל בסך הכל?

תרגיל: \_\_\_\_\_

תשובה: \_\_\_\_\_

### שאלה 8

הוסיפו מספר כך שתתקבל תוצאה גדולה מ-17.

$$\text{_____} + 9$$



## שאלה 9

פתרו את התרגילים.

$12 - 7 = \underline{\quad}$	$9 + 7 = \underline{\quad}$
$18 - 18 = \underline{\quad}$	$8 + 12 = \underline{\quad}$
$\underline{\quad} = 13 - 12$	$30 + 70 = \underline{\quad}$
$80 - 20 = \underline{\quad}$	$\underline{\quad} = 0 + 20$

## שאלה 10

לאהד יש אסף ובו 19 מפתחות. אהד נתן לגבי 13 מפתחות מתוך האסף שלו.  
כמה מפתחות נשארו לאהד?

תרגיל: \_\_\_\_\_

תשובה: \_\_\_\_\_

## שאלה 11

השלימו.

א. \_\_\_\_\_ + \_\_\_\_\_ = 16

ב. \_\_\_\_\_ - \_\_\_\_\_ = 16






## שאלה 12

השלימו.

$11 + \underline{\quad} = 17$	$10 + \underline{\quad} = 15$
$\underline{\quad} - 3 = 14$	$18 - \underline{\quad} = 8$
$15 + \underline{\quad} = 15$	$\underline{\quad} - 4 = 11$

## שאלה 13

יאיר קונה מתנה לאחיו לכבוד יום ההולדת שלו. ליאיר 20 שקלים.  
עזרו ליאיר לבחור שתי מתנות שיעלו לו בדיוק 20 שקלים.

המתנות בחנות				
כדור רגל	דוקים	קלפים	כדור	מחזיק מפתחות
				
29 שקלים	7 שקלים	18 שקלים	13 שקלים	2 שקלים

אפשרות (1): \_\_\_\_\_ וגם \_\_\_\_\_

אפשרות (2): \_\_\_\_\_ וגם \_\_\_\_\_



### שאלה 14

השלימו את המשפטים עם המלים שרשומות בתבה.

- החלזון מתקדם \_\_\_\_\_ .
- הצפור נחה על הר \_\_\_\_\_ .
- הנחש מאוד \_\_\_\_\_ .
- הצ'יטה רצה מאוד \_\_\_\_\_ .
- הפיל \_\_\_\_\_ ! \_\_\_\_\_ .

מהר    פבד    גדול    לאט    ארוך    גבוה

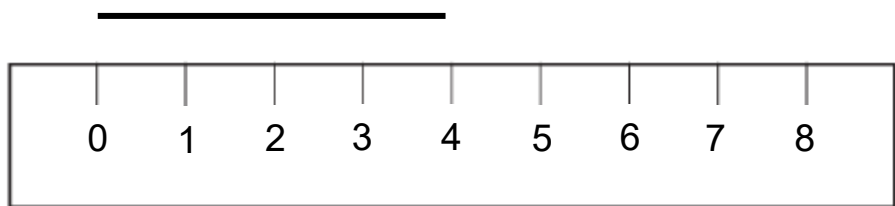
### שאלה 15

המשיכו את הסדרה.



### שאלה 16

מה ארכו של הקו המסמן מעל הסרגל? \_\_\_\_\_



### שאלה 17

א. מדדו בעזרת סרגל את ארכי צלעות המרובע.

ב. חשבו את ההקף של המרובע.



\_\_\_\_\_ תרגיל:

\_\_\_\_\_ תשובה:

### שאלה 18

כתבו מתחת לכל מצלע את שמו. העזרו במחוסן הצורות שלמטה.



\_\_\_\_\_

\_\_\_\_\_

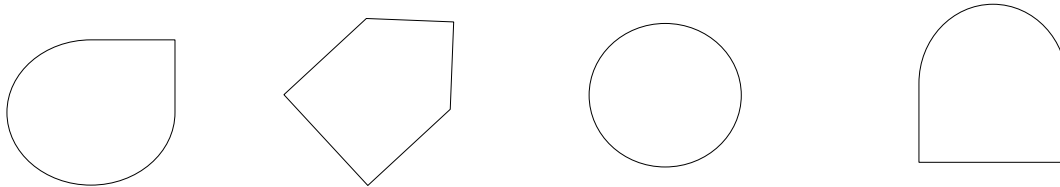
\_\_\_\_\_

\_\_\_\_\_

משולש, רבוע, מלבן, מחמש, מששה, משבע, מתמן

### שאלה 19

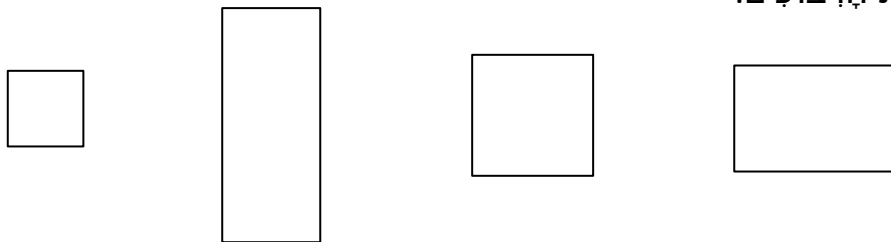
א. מי מהצורות הבאות הוא מצלע? צבעו אותו.



ב. כמה צלעות יש למצלע שצבעתם? \_\_\_\_\_

### שאלה 20

הקיפו את הרבועים.

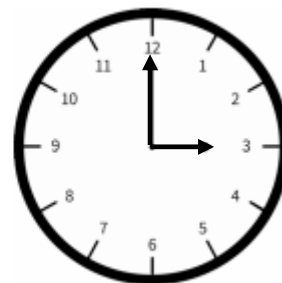


### שאלה 21

הקיפו את השעה שמחוגי השעון מראים אותה.



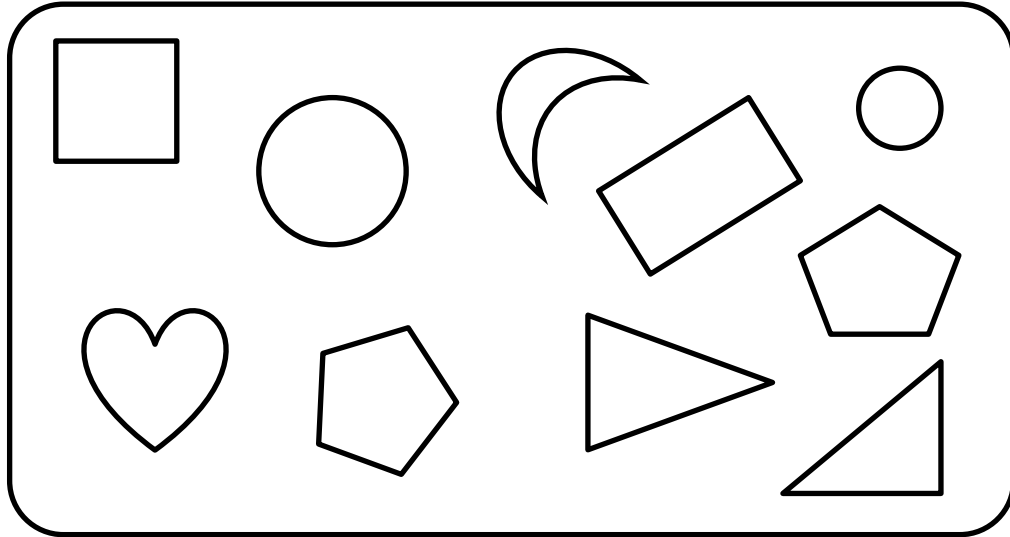
12:00 8:00 7:00



3:00 9:00 12:00

## שאלה 22

איזה מצלע הכי קרוב לרבוע?  
צבעו את הרבוע ואת המצלע.



## שאלה 23

לדוד מטבעות שונות בארנק. הביטו בטבלה. צבעו את המשפטים הנכונים.

כמות	מטבע
4	1
3	2
2	5

לדוד 5 שקלים במטבעות של שקל אחד.




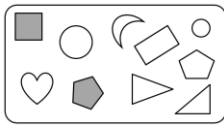

לדוד 9 מטבעות בארנק.

לדוד בסך הכל 20 שקלים בארנק.

לדוד מטבע של 10 שקלים.

**בהצלחה!**

## פתרונות

- (18) מלבן, משולש, רבוע, משושה
- (19) א)  ב) 5 (20)  
- (21) 8:00, 3:00
- (22) 
- (23) לדוד 9 מטבעות בארנק. לדוד 5 שקלים במטבעות של שקל אחד.  
 לדוד מטבע של 10 שקלים. לדוד בסך הכל 20 שקלים בארנק.
- (1) א) 42 ב) תשעים וחמש
- (2) המשך הסדרה: 40, 42, 44  
 המשך הסדרה: 75, 85, 95
- (3) 18
- (4) 5, 14, 42
- (5) אפשריות: 9, 10, 11, 12, 13
- (6) 19-5, 2+8, 4+10
- (7) למיכל 17 טושים.
- (8) קל מספר גדול מ-9
- (9)
- |                |                 |
|----------------|-----------------|
| $12 - 7 = 5$   | $9 + 7 = 16$    |
| $18 - 18 = 0$  | $8 + 12 = 20$   |
| $1 = 13 - 12$  | $30 + 70 = 100$ |
| $80 - 20 = 60$ | $20 = 0 + 20$   |
- (10) לאהד נשארו 6 מפתחות.
- (11) למשל: א.  $6 + 10$ , ב.  $18 - 2$
- (12)
- |               |               |
|---------------|---------------|
| $11 + 6 = 17$ | $10 + 5 = 15$ |
| $17 - 3 = 14$ | $18 - 10 = 8$ |
| $15 + 0 = 15$ | $15 - 4 = 11$ |
- (13) אפשרות 1: כדור, דוקים אפשרות 2: מחזיק מפתחות, קלפים
- (14) לאט, גבוה, ארוך, מהר, גדול, קבד
- (15) 
- (16) 4 א. 7 ס"מ, 2 ס"מ ב. 18 ס"מ